
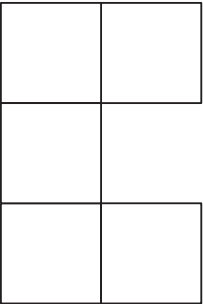
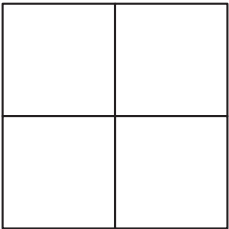
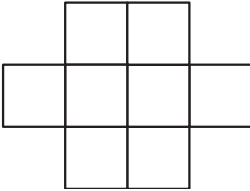

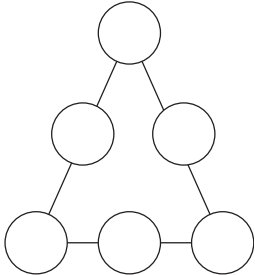


# Julekalender

<p><b>1</b> Skriv det neste tallet!</p> <p>2, 3, 5, 8, __</p>	<p><b>2</b> Sett inn regnetegn og parenteser så oppgavene blir riktige!</p> <p>3 3 3 3 3=5 4 4 4 4 4=5 5 5 5 5 5=5</p>	<p><b>3</b> Hvor mange tosifrede primtal kan du skrive med tallene:</p> <p>1, 3 og 7</p>	<p><b>4</b> Hvor mange trekanter er det i denne figuren?</p> 
<p><b>5</b> Arealet av disse 5 kvadrater er 180 cm<sup>2</sup> til sammen. Hva er figurens omkrets?</p> 	<p><b>6</b> Summen av 5 tall i rekkefølge er 230. Hvilke tall er det?</p>	<p><b>7</b> Ett timeglass kan måle 11 minutter og et annet timeglass kan måle 7 minutter. Hvordan vil du måle 15 minutter med disse to timeglass?</p>	<p><b>8</b> På hvor mange måter kan du dele denne figuren i 4 like store deler?</p> 
<p><b>9</b> Hvis du skriver tallene fra 1–100, hvor mange ganger må du skrive tallet 9?</p>	<p><b>10</b> En gang i november var natten 5½ time lengre enn dagen. Hvor lang var dagen?</p>	<p><b>11</b> Hva er den minst mulige differanse du kan få, hvis du må anbringe tallene 2, 4, 5, 6 og 9 på strekene? _ _ _ _ - _ _ _ _ =</p>	<p><b>12</b> Et polygon har nøyaktig 15 diagonaler. Hvor mange sider har polygonet?</p>

# Julekalender

<p><b>13</b> Et fire-sifret tall er likt lest fra høyre og fra venstre. Det er det også lest på hodet. Speilbildet av tallet er også det samme. Hvilket tall er dette?</p>	<p><b>14</b> Hvor mange ganger på et døgn går den store viser på en klokke forbi den lille viser?</p>	<p><b>15</b> Skriv tallene 1–8 i rutene. Ingen nabotall må stå ved siden av hverandre, loddrett, vannrett og diagonalt.</p> 	<p><b>16</b> Hvis du har satt 10 punkter med like stor avstand på en linje, hvor mange små linjestykker har du da?</p>
<p><b>17</b> Bak et tosifret tall skrives et 3-tall. Det nye tallet er 372 høyere enn det opprinnelige. Hvilket tall var det?</p>	<p><b>18</b> Det ligger tre kort i en bunke. Rett over en dronning ligger det en bonde. Rett under en dronning ligger det en dronning. Rett over en spar ligger det en spar. Rett under en spar ligger det en hjerter. Hvilket kort ligger i bunnen?</p>	<p><b>19</b> Digitale tall på en lommeregner ser slik ut:</p>  <p>Hvilket linjestykke brukes mest?</p>	<p><b>20</b> Sett inn tallene 1–6 så summen i hver side blir 10!</p> 
<p><b>21</b> Hvilket tall må stå på streken?</p> $2005 - 205 =$ $1300 + \underline{\quad}$	<p><b>22</b> I et hus bor Emilie sammen med far, mor, en søster, en hund, to katter, to papegøyer og fire fisker. Hvor mange føtter har de som bor i huset til sammen?</p>	<p><b>23</b> Vi har 9 biter papir. Noen av disse bitene blir klippet opp i tre deler. Til slutt får vi 15 biter med papir. Hvor mange biter ble klippet opp?</p>	<p><b>24</b> Birgitte velger et tresifret tall og et tosifret tall. Finn summen av disse tallene når differansen mellom dem er 989!</p>